

Dravci a sovy


1 Prohlédni si oba vyobrazené druhy ptáků a urči je. Uveď, v čem se shodují a v čem se odlišují.

a)

.....

b)

.....



a)

b)

2 Urči naše dravce a sovy podle jejich siluety. Využij pojmů z nabídky.

jestřáb lesní, káně lesní, poštolka obecná, výr velký



a) b) c) d)

3 Podle čeho lze rozpoznat přítomnost dravců a sov v lese?

.....

4 Dovyprávěj příběh.

„Petr našel zraněnou poštolku. Měla asi zlomené křídlo. Než ji Petr opatrně vložil do malého plátěného pytle, bránila se svým ostrým zobákem i drápy. Teprve pak se uklidnila...“

5 Z vymyšlených jmen neznámých živočichů vytvoř přeskupením pořadí písmen jména živočichů skutečných:

BŘESTÁJ SOUKAL

HURACEJK ŠTUPIK

KALOPTOŠ VÝVERKÝL

LÍNĚNÁSEK

6  Podtrhni znaky, které mají sovy a dravci společné:

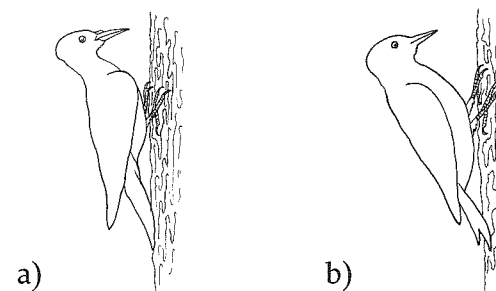
dobře vidí, závoj, užiteční, vratiprst, zahnutý zobák, vyklovávají larvy ze stromu, ostré drápy, živí se ostatními živočichy, noční ptáci, opeřené nohy až k prstům, kloaka, vejce, loví se

Lesní stromoví ptáci

1 Urči oba druhy ptáků a obrázky vybarvi:

a)

b)



a)

b)

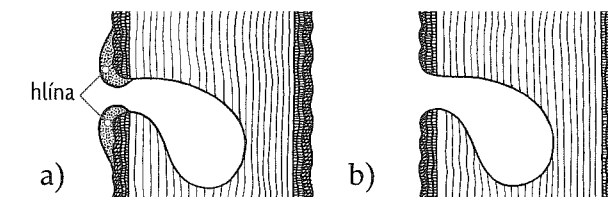
2 Podle čeho lze zjistit přítomnost šplhavců v lese?

.....

3 Komu patří tato hnízda?

a)

b)



a)

b)

4 V těchto skrývačkách se pokus najít rodová jména ptáků:

Jejda, televize zase nefunguje!

Šel jsem bosý, koral mi chléb v kapse.

V zámku byl trpěn kavalír Leopold.

Žirafa měla dlouhý krk a vecpala se dovnitř.

Horolezecká výprava se vrátila z Kavkazu.

Dobře's, oj, kamaráde můj, udělal!

5 Který pták má ve svém jméně ještě jednoho ptáka?

6 Zkus vyluštit tento rébus:

Otoč soupeřem a bude z něho pták.

7 Zástupce ptáků z této nabídky zařaď do řádu:

brhlík lesní, budníček lesní, datel černý, drozd zpěvný, jestřáb lesní, kalous ušatý, káně lesní, kavka obecná, kos černý, krkavec velký, pěnkava obecná, poštolka obecná, puštík obecný, sojka obecná, strakapoud velký, sýkora koňadra, výr velký

Dravci

Sovy

Šplhavci

Pěvci

8  Který z následujících ptáků je naším největším šplhavcem?

a) strakapoud velký


b) datel černý

c) žluna zelená

d) žluva hajní

Dravci a sovy

1 Prohédni si oba vyobrazené druhy ptáků a urči je. Uved', v čem se shodují a v čem se odlišují.



a)
.....
.....
.....
.....
.....
.....
.....
.....
.....
b)
.....
.....
.....
.....
.....
.....
.....

2 Urči naše dravce a sovy podle jejich siluety. Využij pojmu z nabídky. *jestřáb lesní, káň lesní, poštolka obecná, výr velký*



a) b) c) d)

3 Podle čeho lze rozpoznat přítomnost dravců a sov v lese?

4 Dovyprávěj příběh.
.....
.....
.....

“Petr našel zraněnou poštolku. Měla asi zlomené křídlo. Než ji Petr opatrně vložil do malého plátně-
ho pytle, bránila se svým ostrým zobákem i drápy. Teprve pak se uklidnila...”

5 Z vymešlených jmen neznámých živočichů vytvoř preskupením pořadí písmen jména živočichů skutečných:

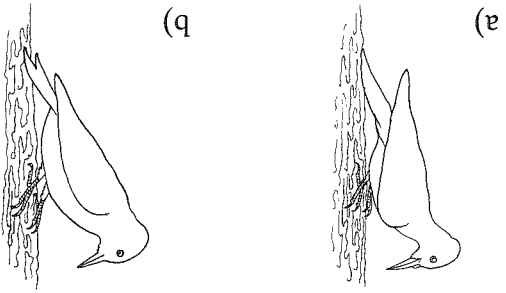
BŘESTAJ
SOUKAL
HURACEJK
ŠTUPIK
VYVERKYL
KALOPTOŠ
LÍNĚNÁSEK

6 Podtrhni znaky, které mají sovy a dravci společně:

dobře vidí, závoj, užiteční, vrátiprst, zahnutý zobák, vyklouvávají larvy ze stromu, ostře drápy, živi se ostatními živočichy, noční ptáci, opětené nohy až k prstům, kloaka, vejce, loví se

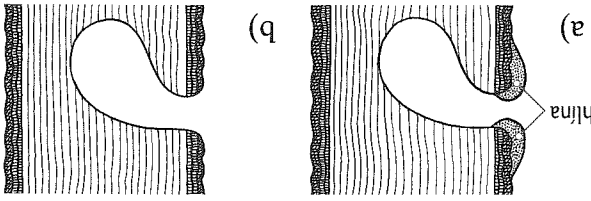
Lesní stromoví ptáci

1 Urči oba druhy ptáků a obrázky vybarvi:



a)
.....
b)
.....

2 Podle čeho lze zjistit přítomnost šplhavců v lese?



3 Komu patří tato hnízda?

a)
.....
b)
.....

4 V těchto skryvkách se pokus najít rodová jména ptáků:

Jejda, televize zase nefunguje!
Šel jsem bosý, koral mi chléb v kapse.
V zámku byl trpěn kavalír Leopold.
Žirafa měla dlouhý krk a vepala se dovnitř.
Horolezecká výprava se vrátila z Kavkazu.
Dobře's, oj, kamaráde můj, udělali!

5 Který pták má ve svém jméne ještě jednoho ptáka?

6 Zkus vyluštit tento rébus:

Otoč soupeřem a bude z něho pták.

7 Zástupce ptáků z této nabídky zařaď do řádu:

brhlík lesní, budníček lesní, datel černý, drozd zpěvný, jestřáb lesní, kalous ušatý, káň lesní, kavka obecná, kos černý, krkavec velký, pěnkava obecná, poštolka obecná, puštlík obecný, sojka obecná, strakapoud velký, sykora koňadra, výr velký

Dravci

Sovy

Šplhavci

Pěvci

8 Který z následujících ptáků je našim největším šplhavcem?

- a) strakapoud velký
- b) datel černý
- c) žluva zelená
- d) žluva hajní