




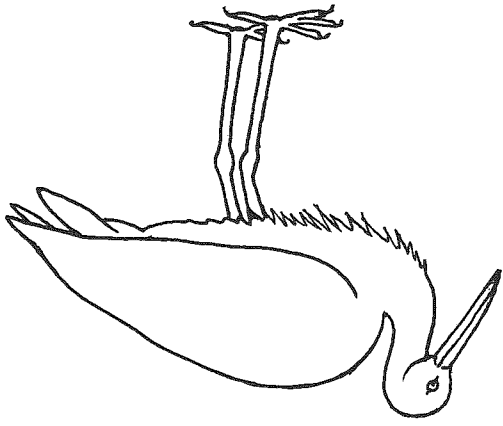
Mokřadní ptáci

1 Dopln, která z vyobrazených siluet ptáků je:
 čap bílý, volavka popelavá, čejka chocholatá,
 slípka zelenonohá



a) b) c) d)

2 Vybarvi obrisy čapů tak, abys vystihl(a) vzhled čapa bílého a čapa černého.



3 Popiš a srovnaj způsob života a životní prostředí u obou těchto druhů:


Čap bílý
 Čap černý
 Který z těchto čapů je vzácnější?
 Co právě dělá čap, když stojí na jedné noze?

5 Vyber správná tvrzení o mokřadních ptácích:

- a) mají prodloužené běháky zadních končetin
- b) vyhledávají hlubší vody
- c) pro pobyt v bahně jsou lepší prodloužené prsty
- d) jsou převážně býložravci

Morštní ptáci

1 Urci vyobrazené ptáky podle jejich siluet:

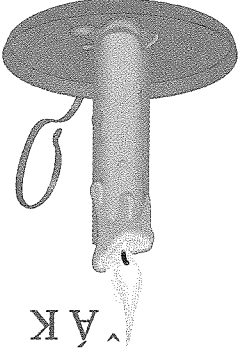


a) b) c)

2 Dopln chybějící slova v následujících tvrzeních:

Tučňáci se přizpůsobili a tak výraz-
 ně, že ztratili schopnost Vybornými letci jsou
 s dlouhými a štíhlými Plameňáci mají například dlouhé
 a dlouhý
 3 Zjistí, kteří ptáci žijí v chladnějších oblastech severní polokoule se podobají tučňákům, ačkoli
 s nimi nejsou příbuzní.

4 Pokus se vyluštit tento rébus.



5 Vyber z nabídky místa, na kterých se nemůžeš setkat
 s tučňáky ve volné přírodě. Zdvůdni proč. Pracuj
 s atlasem.
 Grónsko, Antarktida, Ohňová země, Patagonie, Island,
 Nový Zéland, Aleuty

6 Tučňáci žijí pouze na polokouli:

- a) západní
- b) jižní
- c) východní
- d) severní


Mokřadní ptáci

- 1 Dopln, která z vyobrazených siluet ptáků je: čáp bílý, volavka popelavá, čejka chocholatá, slípka zelenonohá



a) b) c) d)

- 2 Vybarvi obrisy čápů tak, abys vystihl(a) vzhled čápa bílého a čápa černého.



- 3 Popiš a srovnaj způsob života a životní prostředí u obou těchto druhů:

Čáp bílý

.....

Čáp černý

.....

Který z těchto čápů je vzácnější?

- 4 Co právě dělá čáp, když stojí na jedné noze?


.....

- 5  Vyber správná tvrzení o mokřadních ptácích:

- a) mají prodloužené běháky zadních končetin
- b) vyhledávají hlubší vody
- c) pro pobyt v bahně jsou lepší prodloužené prsty
- d) jsou převážně býložraví

Mořští ptáci

- 1 Urči vyobrazené ptáky podle jejich siluet:



a) b) c)

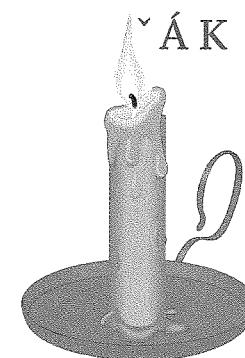
- 2 Dopln chybějící slova v následujících tvrzeních:

Tučňáci se přizpůsobili a tak výrazně, že ztratili schopnost Výbornými letci jsou s dlouhými a štíhlými Plameňáci mají nápadně dlouhé a dlouhý

- 3 Zjisti, kteří ptáci žijící v chladnějších oblastech severní polokoule se podobají tučňákům, ačkoli s nimi nejsou příbuzní.

.....

- 4 Pokus se vylústit tento rébus.



- 5 Vyber z nabídky místa, na kterých se nemůžeš setkat s tučňáky ve volné přírodě. Zdůvodni proč. Pracuj s atlasem.

Grónsko, Antarktida, Ohňová země, Patagonie, Island, Nový Zéland, Aleuty

.....

- 6  Tučňáci žijí pouze na polokouli:

- a) západní
- b) jižní
- c) východní
- d) severní